

# Addition du même nombre

Compétence : Résoudre un problème d'itération d'additions

Je manipule

J'utilise des .

Construis  et .

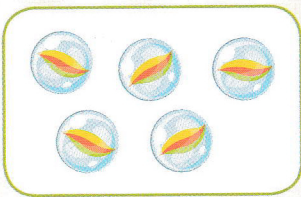
Que remarques-tu concernant ces deux barres ?

Combien de cubes y a-t-il en tout ?


J'observe



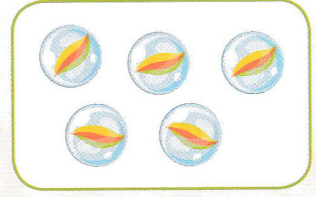
Compte les billes  dans chaque **groupe** et complète.



billes



billes





billes

Il y a ..... groupes de billes . Chaque groupe a ..... billes .

En tout, il y a ..... billes .

J'apprends



$$3 + 3 + 3 + 3 = 12$$

$$4 \text{ groupes de } 3 = 12$$

4 groupes de 3